

8

Александр Александрович

685

Школьный этап Всероссийской олимпиады школьников.  
Физическая культура. 2021-2022 уч. г. 7-8 классы

I. Задания в закрытой форме, т. е. с предложенными вариантами ответов.

1. Как в сфере физической культуры называется процесс обучения двигательным действиям?

- а) двигательная активность б) 3
- + физическая подготовка в)
- техническая подготовка
- г) физическое совершенствование

2. Какое физическое качество или способность оценивается при выполнении теста «ловля падающей линейки»?

- а) координация движений
- б) скоростно-силовые способности в) 3
- точность движений
- + г) быстрота двигательной реакции

3. Кто был первым членом Международного олимпийского комитета России?

- а) В.И. Срезневский
- + б) А.Д. Бутовский в) 3
- в) Н.А. Панин-Коломенкин
- В.Г. Смирнов

4. В каком виде спорта НЕ существует отдельно женской и мужской программы?

- + а) спортивные танцы
- б) спортивная гимнастика в) 3
- фигурное катание
- г) все варианты верны

5. Какое физическое качество характеризует результат в прыжке в длину:

- + а) силу
- б) выносливость
- в) ловкость в) 3
- г) координацию

6. Умение выбрать место и держать игрока с мячом и без мяча в баскетболе формируется при обучении тактическим действиям:

- а) в нападении
- б) в противодействии в) 3

- в) защите
- г) взаимодействии

**7. Способность спортсмена оперативно корректировать двигательные действия в зависимости от особенностей соревновательной ситуации, обусловлена ..... техники.**

- а) экономичностью
- б) стабильностью в)
- эффективностью
- г) вариативностью

3

**8. Одним из самых распространенных роста – весовых несоответствий, создающих дополнительную нагрузку на сердечно – сосудистую и дыхательную системы, является**

- а) избыточный вес тела
- б) высокий рост
- в) низкий рост
- г) физические нагрузки

3

**9. Когда проводятся паралимпийские игры?**

- а) одновременно с олимпийскими играми;
- б) через 12 дней после Олимпийских игр;
- в) через один год после Олимпийских игр;
- г) за один год до Олимпийских игр.

3

**10. В каком из городов Олимпийские игры проводились только один раз?**

- а) Париж;
- б) Лондон;
- в) Афины;
- г) Москва.

3

**11. Восьмикратный олимпийский чемпион, установивший восемь мировых рекордов, «самый быстрый человек на земле».**

- а) Валерий Борзов;
- б) Усэйн Болт;
- в) Карл Льюис;
- г) Джесси Оуэнс.

3

**12. Каковы рекомендации при проведении занятия бегом?**

- а) бег на стадионе можно проводить только по часовой стрелке;
- б) бег на стадионе можно проводить только против часовой стрелки;

3

в) бег по прямой должен выполняться только с ускорением; г) бег может выполняться только в группе.

**II. Задания в открытой форме, т. е. задания, в которых необходимо вписать соответствующее слово в бланк ответа**

13. Назовите игровой вид спорта, инициатором зарождения которого в 1895 г. являлся пастор Ульян Морган, преподаватель колледжа. **5** волейбол

14. Какое испытание комплекса ГТО выполняется из исходного положения Вис хватом сверху? **3** ногте швабле.

15. Назовите легкоатлетическую дисциплину, где целью является преодоление самой длинной дистанции. **3**

16. Сознательная деятельность человека, направленная на изменение своей личности. **5**

17. Совокупность устойчивых, индивидуальных особенностей личности, складывающихся и проявляющихся в ее деятельности, общении и отражающихся в типичных для нее способах поведения – это **3**

**III. Задания «на соответствие».**

18. Установите соответствие между видами спорта и количеством игроков на площадке в одной команде. Ответ запишите буквами в бланк ответа.

1) 2 игроков <b>б</b>	А) тег-регби
2) 3 игроков <b>б</b>	Б) настольный теннис (командный зачет)
3) 11 игроков <b>в</b>	В) стритбол
4) 5 игроков <b>а</b>	Г) хоккей с мячом

**9**

19. Соотнесите, что из перечисленного относится к инвентарю или оборудованию.

1) инвентарь <b>а, г, е</b>	А) коньки
	Б) ворота
	В) брусья
2) оборудование <b>б, в, з.</b>	Г) рулетка
	Д) булава
	Е) ракетка

**9**

**IV. Задание процессуального или алгоритмического толка.**

20. Расположите представленные мячи в порядке увеличения их размеров.

- а) футбольный мяч
- б) мяч для пин-понга)
- флорбольный мяч

1	2	3
б	в	а

**V. Задание с графическими изображениями (пиктограммы).**


21. Олимпийские пиктограммы - стилизованные изображения олимпийских видов спорта, в основе которых лежат силуэты спортсменов.

Определите соответствие каждой пиктограммы своему олимпийскому виду спорта, и напишите в бланке ответов напротив соответствующей цифры ответ.

1	2	3	4	5
Лыжи	Мужские атлетика	Олимпийские игры	Мужские лыжи	Мужские фигурное катание

**VI. Задание – ребус.**

22. Решите ребус, записав слово в бланк ответа.



9 тритон

Школьный этап Всероссийской олимпиады школьников.  
Физическая культура. 2021-2022 уч. г. 7-8 классы

**I. Задания в закрытой форме, т. е. с предложенными вариантами ответов.**

**1. Как в сфере физической культуры называется процесс обучения двигательным действиям?**

- а) двигательная активность
- б) физическая подготовка
- в) техническая подготовка
- г) физическое совершенствование

3

**2. Какое физическое качество или способность оценивается при выполнении теста «ловля падающей линейки»?**

- а) координация движений
- б) скоростно-силовые способности
- в) точность движений
- г) быстрота двигательной реакции

3

**3. Кто был первым членом Международного олимпийского комитета России?**

- а) В.И. Срезневский
- б) А.Д. Бутовский
- в) Н.А. Панин-Коломенкин
- г) В.Г. Смирнов

3

**4. В каком виде спорта НЕ существует отдельно женской и мужской программы?**

- а) спортивные танцы
- б) спортивная гимнастика
- в) фигурное катание
- г) все варианты верны

3

**5. Какое физическое качество характеризует результат в прыжке в длину:**

- а) силу
- б) выносливость
- в) ловкость
- г) координацию

3

**6. Умение выбрать место и держать игрока с мячом и без мяча в баскетболе формируется при обучении тактическим действиям:**

- а) в нападении
- б) в защите

30

- в) защите
- г) взаимодействии

**7. Способность спортсмена оперативно корректировать двигательные действия в зависимости от особенностей соревновательной ситуации, обусловлена ..... техники.**

- а) экономичностью
- б) стабильностью в)
- эффективностьюг)
- вариативностью

3

**8. Одним из самых распространенных росто – весовых несоответствий, создающих дополнительную нагрузку на сердечно – сосудистую и дыхательную системы, является**

- а) избыточный вес телаб)
- высокий рост
- в) низкий рост
- г) физические нагрузки

3

**9. Когда проводятся паралимпийские игры?а)**

- одновременно с олимпийскими играми;б)
- через 12 дней после Олимпийских игр; в)
- через один год после Олимпийских игр;г) за
- один год до Олимпийских игр.

3

**10. В каком из городов Олимпийские игры проводились только один раз?**

- а) Париж; б)
- Лондон;в)
- Афины; г)
- Москва.

3

**11. Восьмикратный олимпийский чемпион, установивший восемь мировых рекордов, «самый быстрый человек на земле».**

- а) Валерий Борзов;
- б) Усэйн Болт;
- в) Карл Льюис; г)
- Джесси Оуэнс.

3

**12. Каковы рекомендации при проведении занятия бегом?**

- а) бег на стадионе можно проводить только по часовой стрелке;
- б) бег на стадионе можно проводить только против часовой стрелки;

3

в) бег по прямой должен выполняться только с ускорением; г) бег может выполняться только в группе.

**II. Задания в открытой форме, т. е. задания, в которых необходимо вписать соответствующее слово в бланк ответа**

13. Назовите игровой вид спорта, инициатором зарождения которого в 1895 г. являлся пастор Ульян Морган, преподаватель колледжа. *5 Волейбол*

14. Какое испытание комплекса ГТО выполняется из исходного положения Вис хватом сверху? *подтягивание 3*

15. Назовите легкоатлетическую дисциплину, где целью является преодоление самой длинной дистанции. *3*

16. Сознательная деятельность человека, направленная на изменение своей личности. *5*

17. Совокупность устойчивых, индивидуальных особенностей личности, складывающихся и проявляющихся в ее деятельности, общении и отражающихся в типичных для нее способах поведения – это *3*

**III. Задания «на соответствие».**

18. Установите соответствие между видами спорта и количеством игроков на площадке в одной команде. Ответ запишите буквами в бланк ответа.

1) 2 игроков <i>б</i>	А) тег-регби
2) 3 игроков <i>в</i>	Б) настольный теннис (командный зачет)
3) 11 игроков <i>г</i>	В) стритбол
4) 5 игроков <i>а</i>	Г) хоккей с мячом

19. Соотнесите, что из перечисленного относится к инвентарю или оборудованию. *9*

1) инвентарь <i>а, в, е.</i>	А) коньки
	Б) ворота
	В) брусья
2) оборудование <i>б, в, г, з.</i>	Г) рулетка
	Д) булава
	Е) ракетка

**IV. Задание процессуального или алгоритмического толка.** *9*

20. Расположите представленные мячи в порядке увеличения их размеров. *9*

- а) футбольный мяч
- б) мяч для пин-понга)
- флорбольный мяч

1	2	3
<i>f</i>	<i>b</i>	<i>a</i>

*9*

**V. Задание с графическими изображениями (пиктограммы).**

21. Олимпийские пиктограммы - стилизованные изображения олимпийских видов спорта, в основе которых лежат силуэты спортсменов.


Определите соответствие каждой пиктограммы своему олимпийскому виду спорта, и напишите в бланке ответов напротив соответствующей цифры ответ.

1	2	3	4	5
<i>коляска</i>	<i>шестовый прыжок</i>	<i>художественная гимнастика</i>	<i>аквагимнастика</i>	<i>лыжное двоеборье</i>

*9*

**VI. Задание – ребус.**

22. Решите ребус, записав слово в бланк ответа.



*9 ищущие*



Школьный этап Всероссийской олимпиады школьников.  
Физическая культура. 2021-2022 уч. г. 7-8 классы

**I. Задания в закрытой форме, т. е. с предложенными вариантами ответов.**

**1. Как в сфере физической культуры называется процесс обучения двигательным действиям?**

- а) двигательная активность б)
- + физическая подготовка в) 3
- техническая подготовка
- г) физическое совершенствование

**2. Какое физическое качество или способность оценивается при выполнении теста «ловля падающей линейки»?**

- а) координация движений
- б) скоростно-силовые способности в) 3
- точность движений
- + г) быстрота двигательной реакции

**3. Кто был первым членом Международного олимпийского комитета России?**

- а) В.И. Срезневский
- + б) А.Д. Бутовский 3
- в) Н.А. Панин-Коломенкин г)
- В.Г. Смирнов

**4. В каком виде спорта НЕ существует отдельно женской и мужской программы?**

- + а) спортивные танцы 3
- б) спортивная гимнастика в)
- фигурное катание
- г) все варианты верны

**5. Какое физическое качество характеризует результат в прыжке в длину:**

- + а) силу 3
- б) выносливость
- в) ловкость
- г) координацию

**6. Умение выбрать место и держать игрока с мячом и без мяча в баскетболе формируется при обучении тактическим действиям:**

- а) в нападении 3
- б) в защите

- в) защите
- г) взаимодействию

7. Способность спортсмена оперативно корректировать двигательные действия в зависимости от особенностей соревновательной ситуации, обусловлена ..... техники.

- а) экономичностью
- б) стабильностью
- в) эффективностью
- г) вариативностью

3

8. Одним из самых распространенных росто – весовых несоответствий, создающих дополнительную нагрузку на сердечно – сосудистую и дыхательную системы, является

- а) избыточный вес тела
- б) высокий рост
- в) низкий рост
- г) физические нагрузки

3

9. Когда проводятся паралимпийские игры?

- а) одновременно с олимпийскими играми;
- б) через 12 дней после Олимпийских игр;
- в) через один год после Олимпийских игр;
- г) за один год до Олимпийских игр.

3

10. В каком из городов Олимпийские игры проводились только один раз?

- а) Париж;
- б) Лондон;
- в) Афины;
- г) Москва.

3

11. Восьмикратный олимпийский чемпион, установивший восемь мировых рекордов, «самый быстрый человек на земле».

- а) Валерий Борзов;
- б) Усэйн Болт;
- в) Карл Льюис;
- г) Джесси Оуэнс.

3

12. Каковы рекомендации при проведении занятия бегом?

- а) бег на стадионе можно проводить только по часовой стрелке;
- б) бег на стадионе можно проводить только против часовой стрелки;

3

в) бег по прямой должен выполняться только с ускорением; г) бег может выполняться только в группе.

**II. Задания в открытой форме, т. е. задания, в которых необходимо вписать соответствующее слово в бланк ответа**

13. Назовите игровой вид спорта, инициатором зарождения которого в 1895 г. являлся пастор Ульян Морган, преподаватель колледжа. 5

14. Какое испытание комплекса ГТО выполняется из исходного положения Вис хватом сверху? 3

15. Назовите легкоатлетическую дисциплину, где целью является преодоление самой длинной дистанции. 3

16. Сознательная деятельность человека, направленная на изменение своей личности. 5

17. Совокупность устойчивых, индивидуальных особенностей личности, складывающихся и проявляющихся в ее деятельности, общении и отражающихся в типичных для нее способах поведения – это 3

**III. Задания «на соответствие».**

18. Установите соответствие между видами спорта и количеством игроков на площадке в одной команде. Ответ запишите буквами в бланк ответа.

1) 2 игроков <span style="margin-left: 20px;">δ</span>	А) тег-регби
2) 3 игроков <span style="margin-left: 20px;">β</span>	Б) настольный теннис (командный зачет)
3) 11 игроков <span style="margin-left: 20px;">z</span>	В) стритбол
4) 5 игроков <span style="margin-left: 20px;">α</span>	Г) хоккей с мячом

19. Соотнесите, что из перечисленного относится к инвентарю или оборудованию.

1) инвентарь <span style="margin-left: 20px;">α, γ, ρ</span>	А) коньки
	Б) ворота
	В) брусья
2) оборудование <span style="margin-left: 20px;">δ, β, z</span>	Г) рулетка
	Д) булава
	Е) ракетка

**IV. Задание процессуального или алгоритмического толка.**

20. Расположите представленные мячи в порядке увеличения их размеров. 9

- а) футбольный мяч
- б) мяч для пин-понга)
- флорбольный мяч

1	2	3
a	b	a

**V. Задание с графическими изображениями (пиктограммы).**


21. Олимпийские пиктограммы - стилизованные изображения олимпийских видов спорта, в основе которых лежат силуэты спортсменов.

Определите соответствие каждой пиктограммы своему олимпийскому виду спорта, и напишите в бланке ответов напротив соответствующей цифры ответ.

1	2	3	4	5
хоккей	прыжки в высоту	художественная гимнастика	академическая гребля	лыжные гонки

**VI. Задание – ребус.**

22. Решите ребус, записав слово в бланк ответа.



тренер